

**ВСЕРОССИЙСКАЯ ОЛИМПИАДА ШКОЛЬНИКОВ ПО ГЕОГРАФИИ
МУНИЦИПАЛЬНЫЙ ЭТАП**

КРИТЕРИИ И МЕТОДИКА ОЦЕНИВАНИЯ ОЛИМПИАДНЫХ ОТВЕТОВ

ВОЗРАСТНАЯ ГРУППА: 7 – 8 КЛАССЫ

Теоретический тур – 55 баллов.

Тестовый тур 20 – баллов.

Максимально –75 баллов.

ТЕОРЕТИЧЕСКИЙ ТУР

Задание 1. На купюрах некоторых стран изображены животные. Назовите эти страны, их денежные единицы. Ответьте на дополнительные вопросы.

Изображение	Страна	Денежная единица	Дополнительный вопрос
	Белиз	Белизский доллар	Каким морем омывается? Ответ: Карибским морем
	Канада	Канадский доллар	Какой язык является государственным, кроме английского? Ответ: Французский язык
	Аруба (территория Нидерландов в Америке)	Флорин	Каким океаном омывается? Ответ: Атлантическим океаном
	ЮАР	Южно-африканский рэнд	Что означает слово «азания»? Ответ: самоназвание страны (название страны, которое народ присваивает себе сам)
	Руанда	Руандийский франк	Колонией какой страны являлась ранее? Ответ: Бельгии

Каждая правильно заполненная клетка – 1 балл.

Максимально: 15 баллов.

ВСЕРОССИЙСКАЯ ОЛИМПИАДА ШКОЛЬНИКОВ ПО ГЕОГРАФИИ
МУНИЦИПАЛЬНЫЙ ЭТАП

Задание 2. Определите названия рек А, Б, В, которые обладают следующими характеристиками:

- реки А, Б, В находятся в одной части света;
- течет с юга на север река Б, в противоположность ей, с севера на юг, течёт В,;
- уровень воды в реке В резко колеблется по сезонам;
- водопад Анхель находится на одном из притоков реки Б;
- река А полноводна в течение всего года и обладает мощными запасами водной энергии;
- река А имеет наибольшую на Земле площадь бассейна.

Прочитайте дополнительные характеристики рек и определите, какие из них будут касаться определённых вами рек (две характеристики для каждой реки).

1. Воды реки являются основным и единственным местом обитания Бото, который является самым крупным видом речного дельфина. Кроме этого, ряд тропических рыб (численностью более чем 5.600 видов) также обитает только здесь.
2. Река несет свои воды по тропическим лесам, в глубинах которых проживает около 50 племен, никогда не имевших контакта с внешним миром.
3. Название реки на языке индейцев гуарани означает «большая река».
4. Река является естественной границей государств Аргентина, Бразилия и Парагвай.
5. Когда Христофор Колумб во время своей третьей экспедиции в Новый Свет, 1 августа 1498 г., увидел дельту реки, он назвал ее «райской рекой».
6. Река собирает воды с северного склона Гвианского плоскогорья и Оринокской низменности.

Буквенное обозначение реки	Название реки	Номера дополнительных характеристик
А	Амазонка	1, 2
Б	Ориноко	5, 6
В	Парана	3, 4
Оценивание	1 балл – за верное название страны. Итого: 3 балла.	1 балл – за каждый верный номер характеристики в случае верного определения названия страны. Итого: 6 баллов.

Приток какой из этих рек исследовали экспедиции Русского географического общества в 1898 году?

Ответ: А – Амазонка (1 балл)

Максимально: 10 баллов.

ВСЕРОССИЙСКАЯ ОЛИМПИАДА ШКОЛЬНИКОВ ПО ГЕОГРАФИИ
МУНИЦИПАЛЬНЫЙ ЭТАП

Задание 3.1. Ученица 7 класса получила задание подготовить сообщение о путешественнике Туре Хейердале. Выберите три правильных предложения, которые могут быть использованы в сообщении. Поясните, в чем ошибочность ложных высказываний.

1. В 1947 г. Тур Хейердал совершил за 101 день переход от Кальяо (Перу) до атолла Рароиа (Туамоту), чтобы доказать возможность океанских плаваний древних мореходов.
2. Плавание в 1947г. Хейердал совершил на плоту, построенном из бальсового дерева.
3. Во время перехода от Перу до Туамоту экспедиция Хейердала использовала попутные течения и западные ветры.
4. Во время одной из экспедиций в команде Хейердала был российский врач Юрий Александрович Сенкевич.
5. В 1977 г. на тростниковой лодке «Тигрис» с экипажем в 11 человек Хейердал прошёл из Ирака через Мексиканский залив к Красному морю.

Ответ

Правильные предложения: 1, 2, 4.

Ошибочные суждения и пояснения их ошибочности (допускаются иные формулировки ответа, не искажающие его смысла):

3. Во время перехода от Перу до Туамоту экспедиция Хейрдала использовала попутные течения и **западные ветры**. – Между Перу и Туамоту дуют **пассаты**.

5. В 1977 г. на тростниковой лодке "Тигрис" с экипажем в 11 человек Хейрдал прошёл из Ирака через **Мексиканский залив** к Красному морю. – Прошли через **Персидский залив**.

Каждое правильное предложение – 1 балл.

Каждое верное пояснение ложного высказывания – 2 балла.

Максимально: 5 баллов.

Задание 3.2. В каких трёх из приведённых высказываний содержится правильная информация о *плато*? Поясните, в чем ошибочность ложных высказываний.

1. Плато от французского слова plateau — *высокий*.
2. Плато — возвышенная равнина, отделенная склонами или обрывами от находящейся ниже местности.
3. Плато — возвышенная волнистая равнина, образовавшаяся на месте разрушенных гор в условиях континентального климата.
4. Плато часто расчленены глубокими речными долинами — каньонами.
5. Примерами плато являются Колорадо, Устюрт, Путорана.

Ответ

ВСЕРОССИЙСКАЯ ОЛИМПИАДА ШКОЛЬНИКОВ ПО ГЕОГРАФИИ
МУНИЦИПАЛЬНЫЙ ЭТАП

Правильные предложения: 2, 4, 5.

Ошибочные суждения и пояснения их ошибочности (допускаются иные формулировки ответа, не искажающие его смысла):

1. Плато от французского слова plateau – *высокий*. — Плато от французского слова plateau – *плоский*.

3. Плато — возвышенная волнистая равнина, образовавшаяся на месте разрушенных гор в условиях континентального климата. — Это определение мелкосопочника.

Каждое правильное предложение – 1 балл.

Каждое верное пояснение ложного высказывания – 2 балла.

Максимально: 5 баллов.

Задание 4. Выберите из списка слова, которые могут быть использованы в рассказе об Антарктиде.

Дельта, анемометр, пингвин, муссон, бриз, туман, пустыня, пассат, ложе, ледник, эстуарий, магма, изогипса, горст, нефть, минерал, метаморфизм, айсберг, желоб, ледник, Беллинсгаузен, эвкалипт, изотерма, Янсзон, коала, Дарлинг.

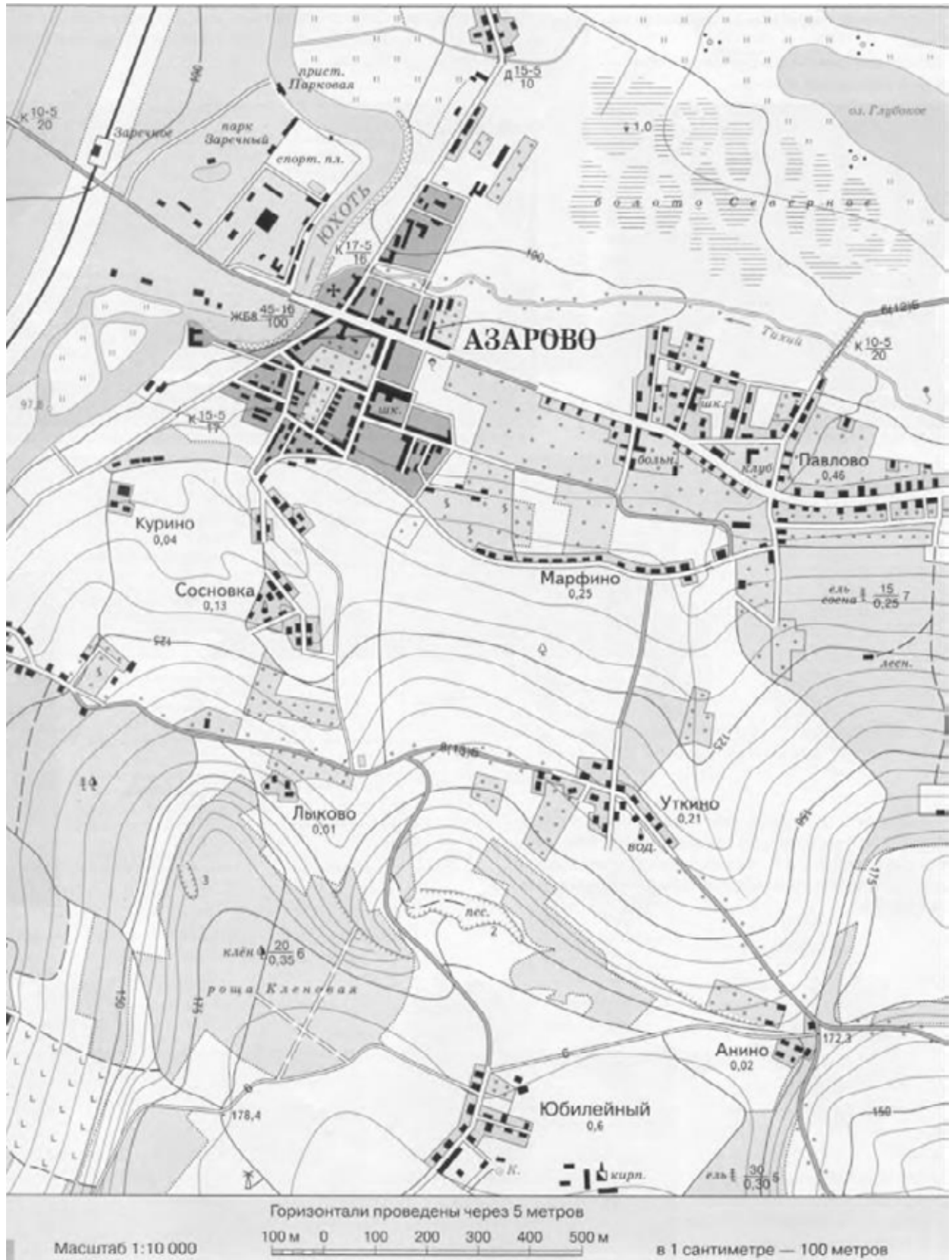
Верный ответ	Количество баллов
айсберг	
ледник	
пингвин	
Беллинсгаузен	
туман	
пустыня	

Каждое верно слово – 1 балл, каждое неверное слово – минус 1 балл, но в сумме – не более 5 баллов.

Максимально: 5 баллов.

ВСЕРОССИЙСКАЯ ОЛИМПИАДА ШКОЛЬНИКОВ ПО ГЕОГРАФИИ
МУНИЦИПАЛЬНЫЙ ЭТАП

Задание 5.



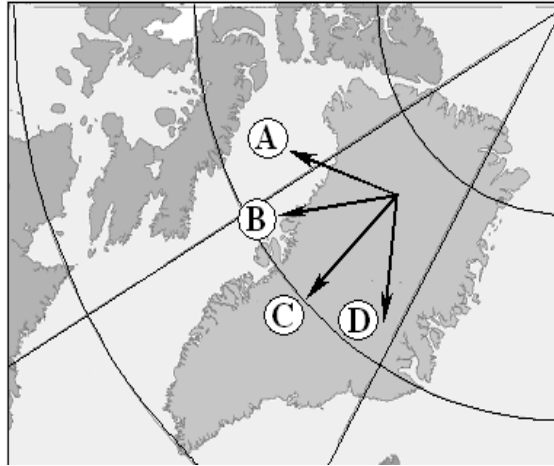
ВСЕРОССИЙСКАЯ ОЛИМПИАДА ШКОЛЬНИКОВ ПО ГЕОГРАФИИ
МУНИЦИПАЛЬНЫЙ ЭТАП

№	Вопрос	Ответ	Баллы	
1	Исходя из классификации форм рельефа по высоте над уровнем моря, определите форму рельефа территории, изображенной на карте. Ответ поясните.	<i>Низменность, т. к. высота над уровнем моря до 200 м</i>	1	1
2	Как называется масштаб, указанный под картой? В какой вид нужно перевести данный масштаб, чтобы было удобно рассчитать расстояние? Переведите масштаб в нужные единицы.	<i>Численный. Перевести в именованный В 1 см 100 метров</i>	1	1
3	В каком направлении от населенного пункта Азарово находится населенный пункт Уткин?	<i>Юго-восток</i>	1	
4	Определите относительную высоту данной местности. Приведите рассуждения и расчеты.	<i>Максимальная высота в пределах данной карты 178,4 м, минимальная 100 м над уровнем моря. Чтобы подсчитать перепад, нужно из 178,4 вычесть 100 = 78,4 м</i>	1	1
5	Какая природная зона изображена на карте?	<i>Смешанные леса (допускается ответ «лесостепь»)</i>	1	
6	На карте изображено несколько мостов. Найдите самый большой и мощный. Где он сооружен, какие характеристики он имеет?	<i>Мост через р. Юхоть к населенному пункту Азарово. Мост железобетонный, длина 45 метров, ширина 16 м, грузоподъемность 100 т (при наличии всех характеристик)</i>	1	2
7	Дайте характеристику дороге, соединяющей населенные пункты Анино – Уткино – Лыково.	<i>Дорога идет с ю.-в. на с.-з. (или наоборот). Асфальтированная, общая ширина 13 м, покрыта асфальтом 6 м, остальное - обочина. Вдоль дороги лесополоса. (при наличии всех характеристик)</i>		2
	Итого:		15	

Максимально: 15 баллов.

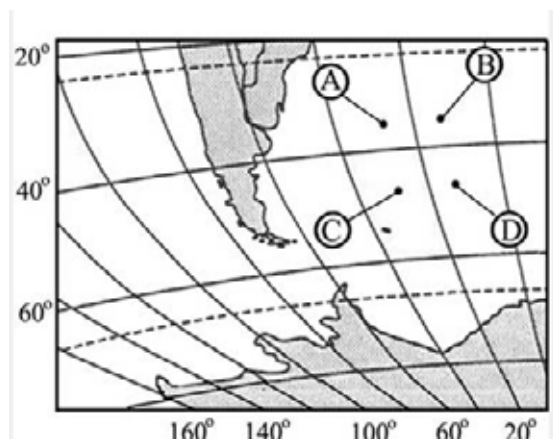
7 – 8 КЛАСС. ТЕСТОВЫЙ ТУР

1 Какая стрелка указывает направление на юг?



Ответ:

2 Какая точка имеет координаты 35° с. ш. и 24° з. д.?



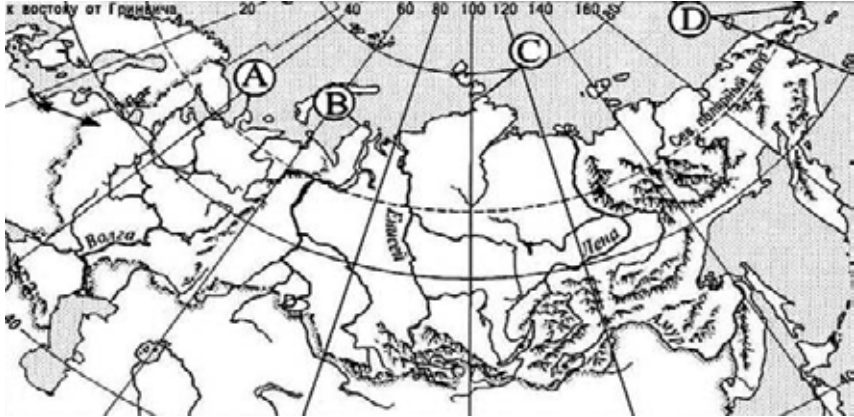
Ответ:

3 Какой из перечисленных природных ресурсов относится к исчерпаемым возобновимым?

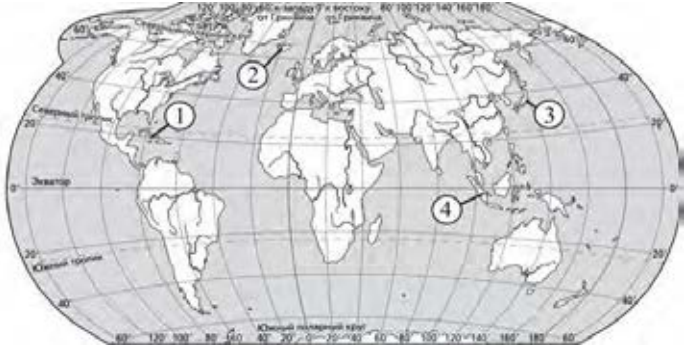

- 1) энергия приливов
- 2) энергия солнца
- 3) пресная вода
- 4) каменный уголь

Ответ:

ВСЕРОССИЙСКАЯ ОЛИМПИАДА ШКОЛЬНИКОВ ПО ГЕОГРАФИИ
МУНИЦИПАЛЬНЫЙ ЭТАП

<p>4</p>	<p>Какой буквой обозначен полуостров Ямал?</p>  <p>Ответ: <input type="text" value="A"/></p>
<p>5</p>	<p>Орангутан и двугорбый верблюд обитают в:</p> <ol style="list-style-type: none">1) Северной Америке2) Австралии3) Южной Америке4) Азии <p>Ответ: <input type="text" value="4"/></p>
<p>6</p>	<p>Выберите из списка материк, о котором могла бы идти речь в книге А. Веспера «Дети бескрайней сельвы».</p> <ol style="list-style-type: none">1) Африка2) Австралия3) Южная Америка4) Северная Америка5) Евразия6) Антарктида <p>Ответ: <input type="text" value="3"/></p>

ВСЕРОССИЙСКАЯ ОЛИМПИАДА ШКОЛЬНИКОВ ПО ГЕОГРАФИИ
МУНИЦИПАЛЬНЫЙ ЭТАП

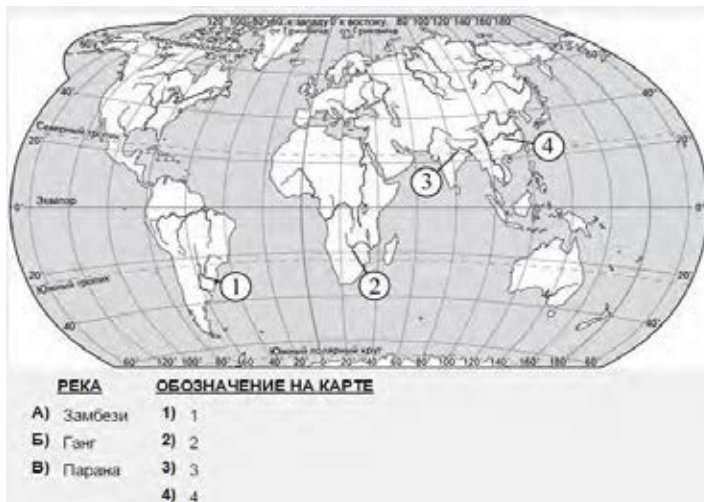
7	<p>Какая цифра обозначает остров, лежащий в низких широтах?</p>  <p>Ответ: <input type="text" value="4"/></p>
8	<p>Для какого из перечисленных полуостровов характерно наименьшее среднегодовое количество осадков?</p> <ol style="list-style-type: none">1) Аравийский2) Индокитай3) Индостан4) Корейский <p>Ответ: <input type="text" value="1"/></p>
9	<p>Какое из утверждений о положении крупных форм рельефа России верно?</p> <ol style="list-style-type: none">1) Верхоянский хребет отделяет Западно-Сибирскую равнину от Среднесибирского плоскогорья.2) Горы Алтай расположены в северо-западной части страны.3) Среднесибирское плоскогорье находится между реками Енисей и Лена.4) Горы Саяны разделяют Восточно-Европейскую и Западно-Сибирскую равнины. <p>Ответ: <input type="text" value="1"/></p>
10	<p>Какая цифра обозначает реку, которая образуется при слиянии рек Мараньон и Укаяли?</p>  <p>Ответ: <input type="text" value="2"/></p>
11	<p>Расположите перечисленные природные зоны в порядке увеличения характерного для них коэффициента увлажнения.</p>

ВСЕРОССИЙСКАЯ ОЛИМПИАДА ШКОЛЬНИКОВ ПО ГЕОГРАФИИ
МУНИЦИПАЛЬНЫЙ ЭТАП

	<p>1) степь 2) тундра 3) пустыня</p> <p>Ответ: <table border="1"><tr><td>3</td><td>1</td><td>2</td></tr></table></p>	3	1	2
3	1	2		
12	<p>Расположите материки по порядку увеличения абсолютной высоты самой высокой точки.</p> <p>1) Африка 2) Северная Америка 3) Евразия</p> <p>Ответ: <table border="1"><tr><td>1</td><td>2</td><td>4</td></tr></table></p>	1	2	4
1	2	4		
13	<p>Выберите гидрологические объекты, расположенные в Северном полушарии и относящиеся к Азии.</p> <p>Ключевская Сопка, Везувий, Этна, Гекла, Фудзияма, Камерун, Орисаба, Котопахи, Килиманджаро, Эльбрус, Амазонская, Месопотамская, Красное, Чёрное, Саргассово, Балтийское, Баренцево, Азовское, Аравийское, Баренцево, Карибское, Красное.</p> <p>Ответ: Красное, Аравийское, Черное.</p>			
14	<p>Выберите из списка группы слов, которые могут быть использованы в рассказе о процессах в литосфере:</p> <p>1) дельта, анемометр, пингвин 2) муссон, бриз, туман, пустыня, пассат 3) ложе, ледник, эстуарий, магма, изогипса, горст 4) нефть, минерал, метамофизм 5) айсберг, желоб, ледник, Беллинсгаузен, пассат 6) эвкалипт, изотерма, Янсзон, коала, Дарлинг</p> <p>Ответ: <table border="1"><tr><td>3</td><td>4</td></tr></table></p>	3	4	
3	4			

ВСЕРОССИЙСКАЯ ОЛИМПИАДА ШКОЛЬНИКОВ ПО ГЕОГРАФИИ
МУНИЦИПАЛЬНЫЙ ЭТАП

15 Установите соответствие.



Ответ:

А	Б	В
2	3	1

16 Какое слово пропущено в тексте?

..... в геодезии — это угол между направлением на север (в Южном полушарии — на юг) и направлением на какой-либо удалённый предмет.

..... в астрономии — это дуга математического горизонта от точки юга до вертикального круга светила или угол между полуденной линией и линией пересечения плоскости математического горизонта с плоскостью вертикального круга светила.

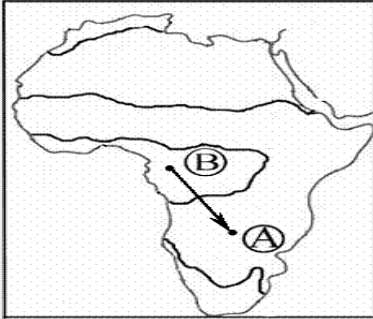
Ответ: азимут.

17 Какое слово пропущено в тексте?

В Европе изобретение относят к XII—XIII вв., однако устройство его оставалось очень простым — магнитная стрелка, укрепленная на пробке и опущенная в сосуд с водой. В воде пробка со стрелкой ориентировалась нужным образом. В начале XIV в. итальянец Флавио Джойя значительно усовершенствовал Магнитную стрелку он надел на вертикальную шпильку, а к стрелке прикрепил лёгкий круг — картушку, разбитую по окружности на 16 румбов. В XVI в. ввели деление картушки на 32 румба и коробку со стрелкой стали помещать в кардановом подвесе, чтобы устранить влияние качки корабля на В XVII в. снабдили пеленгатором — вращающейся диаметральной линейкой с визирами на концах, укрепленной своим центром на крышке коробки над стрелкой.

Ответ: компас.

ВСЕРОССИЙСКАЯ ОЛИМПИАДА ШКОЛЬНИКОВ ПО ГЕОГРАФИИ
МУНИЦИПАЛЬНЫЙ ЭТАП

18	<p>Вставьте пропущенное слово.</p> <p>..... в географии называют условные линии разделения земного шара. На картах и глобусах они исполняют роль ориентира, по которому можно указать местонахождение объекта на материке или в океане. Географический, условно проходя по всей эллиптической поверхности нашей планеты, имеет полную длину 40008,550 км. Это соответствует длине окружности планеты. используют для определения географической долготы. А они в свою очередь разделяют земной шар на воображаемые доли, которых насчитывается 360 штук. Каждая из долей соответствует одному градусу долготы. Линии проходят по всей длине поверхности Земли через полюса.</p> <p>Ответ: меридиан.</p>
19	<p>Из какой природной зоны в какую переместится путешественник, совершив перелет по маршруту В – А, показанному на карте Африки?</p> <div style="text-align: center;"></div> <p>Ответ: из экваториальных лесов в саванны.</p>
20	<p>Определите страну по описанию.</p> <p>Это древняя страна, большая часть населения которой проживает в долине и дельте одной из великих рек мира. Запасы нефти, орошаемые земли, рекреационные ресурсы – основные богатства этой страны; она обладает также выгодным экономико-географическим положением: выходом к морю, близостью с развитыми странами и функционированием на ее территории одного из крупнейших каналов в мире.</p> <p>Ответ: Египет.</p>

Правильно выполнение задания – 1 балл.

Максимальное количество – 20 баллов.