

**ВСЕРОССИЙСКАЯ ОЛИМПИАДА ШКОЛЬНИКОВ ПО ГЕОГРАФИИ
МУНИЦИПАЛЬНЫЙ ЭТАП**

КРИТЕРИИ И МЕТОДИКА ОЦЕНИВАНИЯ ОЛИМПИАДНЫХ ОТВЕТОВ

Возрастная группа: 9 – 11 классы

Теоретический тур – 55 баллов.

Тестовый тур – 20 баллов.

Максимально – 75 баллов.

ТЕОРЕТИЧЕСКИЙ ТУР

Задание 1. На купюрах некоторых стран изображены животные. Назовите эти страны, их денежные единицы. Ответьте на дополнительные вопросы.

Изображение	Страна	Денежная единица	Дополнительный вопрос
	Малави	Малавийская квача или квага	Какое озеро является крупнейшим для данной страны? Ответ: Ньяса
	Индонезия	Индонезийская рупия	Какой язык является официальным в данной стране? Ответ: Индонезийский
	Япония	Иена	Высшая точка этой страны Ответ: Вулкан Фудзияма
	Белоруссия	Рубль	Что такое «трасянка»? Ответ: форма смешения русского и белорусского языков
	Индия	Рупии	Как называется традиционная женская одежда? Ответ: сари или пенджаби

Каждая правильно заполненная клетка – 1 балл.

Максимально – 15 баллов.

**ВСЕРОССИЙСКАЯ ОЛИМПИАДА ШКОЛЬНИКОВ ПО ГЕОГРАФИИ
МУНИЦИПАЛЬНЫЙ ЭТАП**

Задание 2. Определите названия стран А, Б, В, которым соответствует следующие характеристики:

- страна А не имеет выхода к морю. Столица не самый крупный город страны. Половина электроэнергии вырабатывается на ГЭС. Поддерживает постоянный политический нейтралитет;

- столица страны Б — крупнейший порт страны. Имеет монархическую форму правления. Развита добыча нефти, угля, хорошо развито машиностроение.

- страна В — в прошлом центр одной из крупнейших колониальных империй мира. На языке этой страны говорит население двух десятков государств. Центральный район страны, где расположена столица, относится к числу отстающих в экономическом развитии районов страны. Конституционная монархия;

- страны А, Б, В находятся в одной части света.

Прочитайте дополнительные характеристики стран и определите, какие из них будут относиться к определённым вами странам.

1) Французский язык был официальным в этой стране в течение 300 лет.

2) Официальная столица государства — географический центр страны. В столице находится площадь Пуэрта-дель-Соль, которая является также центром государства и радиальной дорожной системой.

3) Страна — одна из двух государств, имеющих квадратный флаг

4) В стране насчитывается более 1 500 озер, и в пределах страны человек никогда не находится более чем в 10 милях (16 км) от озера.

5) Столица этой страны — первый город, в котором появился метрополитен.

6) В стране 45 объектов, которые попали в список всемирного наследия ЮНЕСКО.

Буквенное обозначение страны	Название страны	Номера дополнительных характеристик
А	Швейцария	3, 4
Б	Великобритания	1, 5
В	Испания	2, 6
Баллы	Итого: 3 балла	Итого: 6 баллов

Какая из этих стран является родиной пехотного танка Matilda Mk II?

Ответ: Б) Великобритания (1 балл).

Максимально – 10 баллов.

**ВСЕРОССИЙСКАЯ ОЛИМПИАДА ШКОЛЬНИКОВ ПО ГЕОГРАФИИ
МУНИЦИПАЛЬНЫЙ ЭТАП**

Задание 3.1. Ученица 9 класса получила задание подготовить сообщение по теме «Урбанизация в России». Выбери 3 правильных предложения, которые могут быть использованы в сообщении. Поясните, в чем ошибочность ложных высказываний.

1. В таких городах, как Екатеринбург, Нижний Тагил, Новосибирск, расположены крупные заводы тяжелого машиностроения.
2. С 2010 по 2018 г. в общей численности населения России доли городского и сельского населения составляли 74% и 26% соответственно.
3. В России число агломераций-миллионеров к 2010 г. достигло 19.
4. В скандинавских сагах Древнюю Русь называли Гардарикой.
5. В 2018 г. среди всех въехавших в Россию в целях смены места жительства около 90% составляли жители других стран СНГ.

Ответ

Правильные предложения: 2, 3, 4.

Ошибочные суждения и пояснения их ошибочности (допускаются иные формулировки ответа, не искажающие его смысла):

1. В таких городах, как Екатеринбург, Нижний Тагил, Новосибирск, расположены крупные заводы тяжелого машиностроения. – Речь идет о хозяйстве России, а не об урбанизации.

5. В 2018 г. среди всех въехавших в Россию в целях смены места жительства около 90% составляли жители других стран СНГ. – Содержится информация о миграции населения.

Каждое правильное предложение – 1 балл.

Каждое верное объяснение ложного высказывания – 2 балла.

Максимально – 5 баллов.

Задание 3.2. Выберите 3 предложения, в которых приводится верная информация о Европейском Союзе. Поясните, в чем ошибочность ложных высказываний.

1. Совет Европы — это законодательный орган ЕС.
2. Евразийское экономическое сообщество было преобразовано в ЕС в 2015 году.
3. Благодаря интеграции, страны ЕС сформировали единое экономическое пространство со свободным перемещением товаров, капиталов, услуг, технологий, рабочей силы.
4. Первым шагом к созданию ЕС было подписание Договора об учреждении Европейского объединения угля и стали.
5. Европейский парламент располагается в городе Страсбурге.

ВСЕРОССИЙСКАЯ ОЛИМПИАДА ШКОЛЬНИКОВ ПО ГЕОГРАФИИ
МУНИЦИПАЛЬНЫЙ ЭТАП

Ответ

Правильные предложения: 3, 4, 5.

Ошибочные суждения и пояснения их ошибочности (допускаются иные формулировки ответа, не искажающие его смысла):

1. Совет Европы – это законодательный орган ЕС. — Законодательный орган ЕС – это Европейский парламент. Совет Европы — это старейшая в Европе межправительственная организация, созданная в 1949 году для защиты прав человека, демократии и верховенства права.

2. Евразийское экономическое сообщество было преобразовано в ЕС в 2015 году. — Евразийское экономическое сообщество было преобразовано в 2015 г. в Евразийский экономический союз. Это региональная экономическая группировка стран СНГ.

Каждое правильное предложение – 1 балл.

Каждое верное пояснение ложного высказывания – 2 балла.

Максимально – 5 баллов.

Задание 4. Выбери из списка слова, которые могут быть использованы в рассказе о Японии.

Сянган, конфуцианство, Айны, Сикоку, Чхота-Напур, Калькутта, Кашмир, Канберра, Кокодо, Калгурли, Астана, Байконур, Актобе, Мангышлак, Алаколь, Мугоджарам, Карпентария, вомбат, кукабара, Уйгуры, дунгане, штаты, Мумбаи, Ченнаи, синтоизм, Мицубиси, император, Кавасаки, Хэйлунцзян, Чунцин.

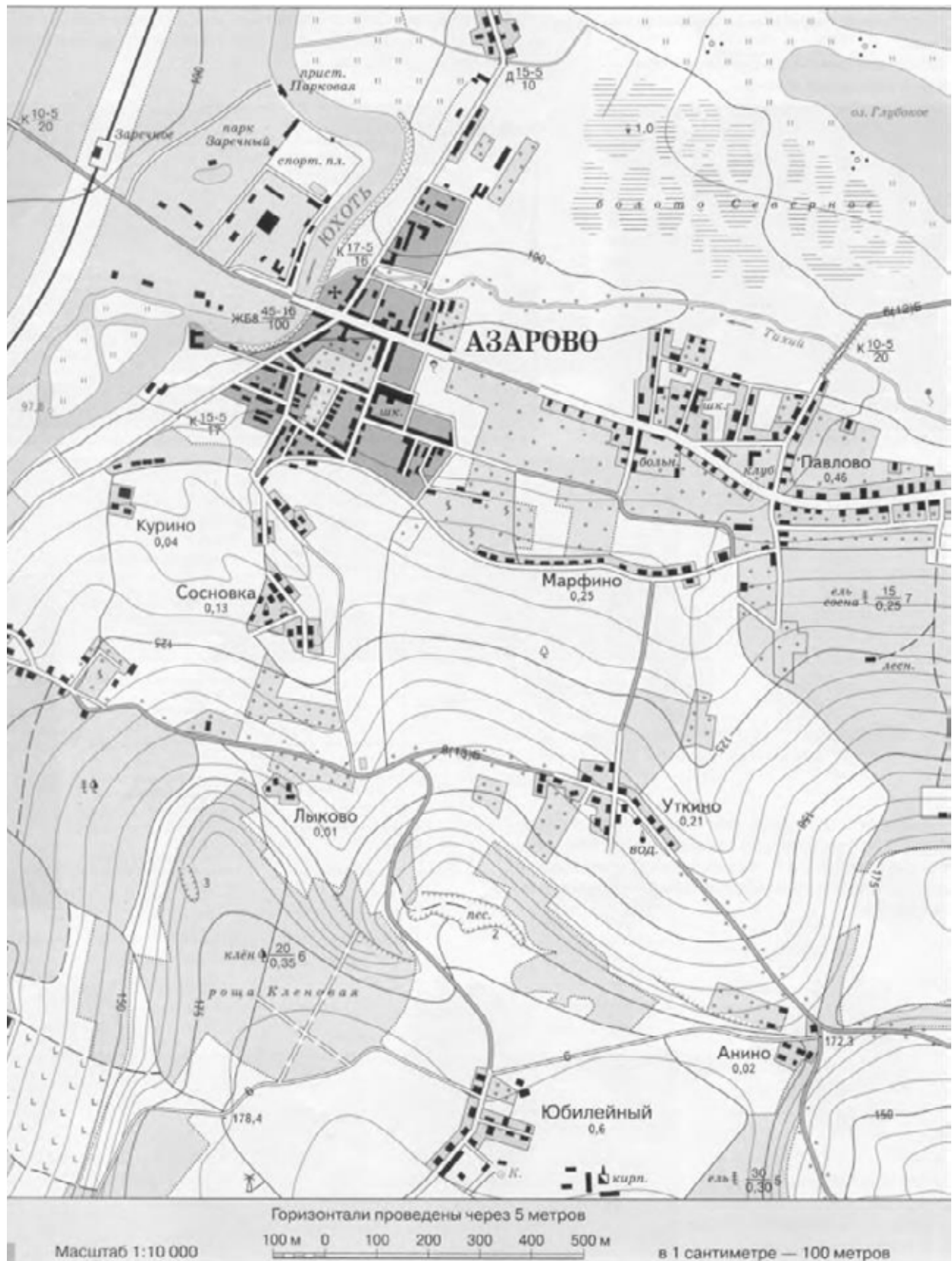
Ответ	Количество баллов
Айны Сикоку синтоизм Мицубиси император Кавасаки	

Каждое верно слово – 1 балл, каждое неверное слово – минус 1 балл, но в сумме – не более 5 баллов.

Максимально – 5 баллов.

ВСЕРОССИЙСКАЯ ОЛИМПИАДА ШКОЛЬНИКОВ ПО ГЕОГРАФИИ
МУНИЦИПАЛЬНЫЙ ЭТАП

Задание 5.



ВСЕРОССИЙСКАЯ ОЛИМПИАДА ШКОЛЬНИКОВ ПО ГЕОГРАФИИ
МУНИЦИПАЛЬНЫЙ ЭТАП

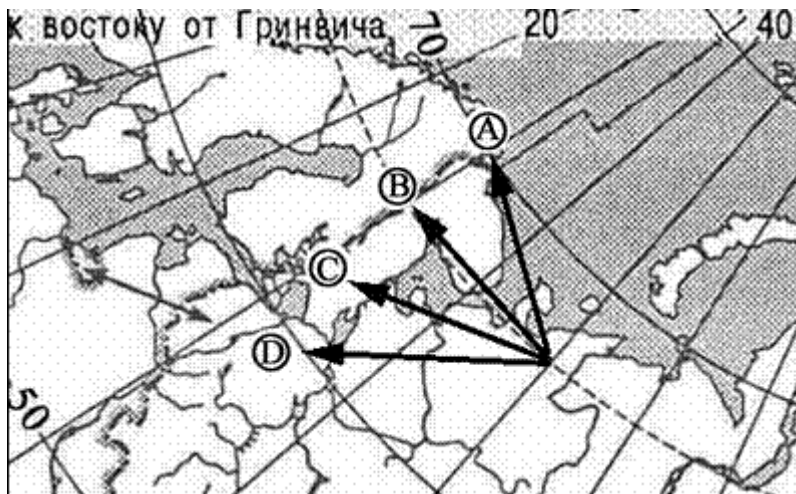
№	Вопрос	Ответ	Баллы	
1	Исходя из классификации форм рельефа по высоте над уровнем моря, определите форму рельефа территории, изображенной на карте.	<i>Низменность, т. к. высота над уровнем моря до 200 м.</i>	1	
2	Как называется масштаб, указанный под картой? В какой вид нужно перевести данный масштаб, чтобы было удобно рассчитать расстояние? Переведите масштаб в нужные единицы.	<i>Численный. Перевести в именованный. В 1 см 100 метров.</i>	1 1 1	
5	Какая природная зона изображена на карте?	<i>Смешанные леса (допускается ответ «лесостепь»)</i>	1	
6	На карте изображено несколько мостов. Найдите самый большой и мощный. Где он сооружен, какие характеристики он имеет?	<i>Мост через р. Юхоть к населенному пункту Азарово. Мост железобетонный, длина 45 метров, ширина 16 м, грузоподъемность 100 т (при наличии всех характеристик)</i>	2	
7	Дайте характеристику дороге, соединяющей населенные пункты Анино – Уткино – Лыково.	<i>Дорога идет с ю-в на с-з (или наоборот). Асфальтированная, общая ширина 13 м, покрыта асфальтом 6 м, остальное-обочина. Вдоль дороги лесополоса. (при наличии всех характеристик)</i>	2	
8	Опишите лесной массив, расположенный на самом юго-востоке карты.	<i>Лес еловый. Высота деревьев – 30 м. Толщина деревьев – 0,30 м. Растут через 5 метров. (при наличии всех характеристик)</i>	2	
9	На карте изображен завод. Укажите его специализацию. Какое сырье для производства его продукции есть поблизости от завода?	<i>Завод кирпичный. Для производства необходим песок (допускается ответ «вода»).</i> <i>Недалеко – песчаный карьер.</i>	1 1	
10	Какими способами возможны перемещения людей и грузов в пределах данной местности?	<i>Усовершенствованное шоссе, улучшенные грунтовые дороги, железная дорога (наличие жд. станции), речной путь (есть пристань) (полный список, не менее 4-х характеристик)</i>	2	
			15	

Максимально – 15 баллов.

ВСЕРОССИЙСКАЯ ОЛИМПИАДА ШКОЛЬНИКОВ ПО ГЕОГРАФИИ
МУНИЦИПАЛЬНЫЙ ЭТАП

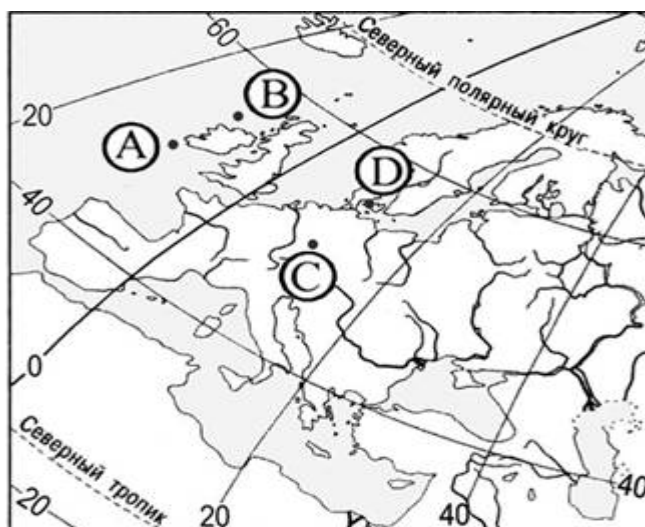
9 – 11 класс. Тестовый тур

1 Какая стрелка на фрагменте карты России указывает направление на запад?



Ответ:

2 Какая из точек имеет координаты 55° с.ш. и 10° в.д.?



Ответ:

3 Большинство верующих какого из перечисленных народов исповедуют христианство?

- 1) тувинцы
- 2) таджики
- 3) бразильцы
- 4) японцы

Ответ:

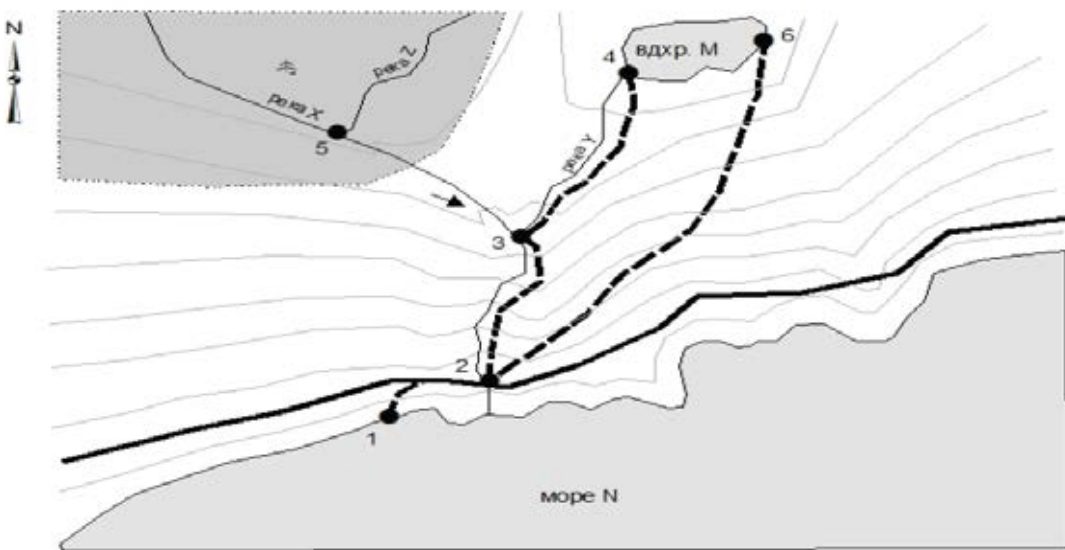
ВСЕРОССИЙСКАЯ ОЛИМПИАДА ШКОЛЬНИКОВ ПО ГЕОГРАФИИ
МУНИЦИПАЛЬНЫЙ ЭТАП

4	<p>Что из перечисленного является примером нерационального природопользования?</p> <p>1) создание полей защитных лесополос</p> <p>2) захоронение бытовых отходов в поймах рек</p> <p>3) закрепление оврагов</p> <p>4) капельный полив растений на полях</p> <p>Ответ: 2</p>																																							
5	<p>Для какого из перечисленных заливов в наибольшей степени характерно нефтяное загрязнение?</p> <p>1) Бенгальский</p> <p>2) Мексиканский</p> <p>3) Анадырский</p> <p>4) Большой Австралийский</p> <p>Ответ: 2</p>																																							
6	<p>Определите годовую амплитуду температуры</p> <p>$t, ^\circ\text{C}$ Осадки, мм</p> <table border="1"><thead><tr><th>Месяц</th><th>Я</th><th>Ф</th><th>М</th><th>А</th><th>М</th><th>И</th><th>И</th><th>А</th><th>С</th><th>О</th><th>Н</th><th>Д</th></tr></thead><tbody><tr><td>Температура (°C)</td><td>22</td><td>22</td><td>20</td><td>18</td><td>15</td><td>12</td><td>11.5</td><td>12</td><td>14</td><td>16</td><td>18</td><td>20</td></tr><tr><td>Осадки (мм)</td><td>20</td><td>20</td><td>30</td><td>50</td><td>60</td><td>45</td><td>40</td><td>50</td><td>40</td><td>30</td><td>20</td><td>20</td></tr></tbody></table> <p>449</p> <p>Я Ф М А М И И А С О Н Д</p> <p>Ответ: 11</p>	Месяц	Я	Ф	М	А	М	И	И	А	С	О	Н	Д	Температура (°C)	22	22	20	18	15	12	11.5	12	14	16	18	20	Осадки (мм)	20	20	30	50	60	45	40	50	40	30	20	20
Месяц	Я	Ф	М	А	М	И	И	А	С	О	Н	Д																												
Температура (°C)	22	22	20	18	15	12	11.5	12	14	16	18	20																												
Осадки (мм)	20	20	30	50	60	45	40	50	40	30	20	20																												
7	<p>Какой из регионов находится в природной зоне степей.</p> <p>Ответ: A</p>																																							

ВСЕРОССИЙСКАЯ ОЛИМПИАДА ШКОЛЬНИКОВ ПО ГЕОГРАФИИ
МУНИЦИПАЛЬНЫЙ ЭТАП

8	<p>Какое утверждение о положении Солнца над горизонтом на разных широтах верно?</p> <ol style="list-style-type: none">1) Над экватором Солнце в полдень всегда находится на высоте 90°.2) Над Северным тропиком Солнце бывает в зените дважды в год.3) Над экватором Солнце бывает в зените в дни равноденствий.4) Над Южным тропиком Солнце бывает в зените в дни равноденствий. <p>Ответ: 3</p>
9	<p>Какое утверждение о географическом положении России является верным?</p> <ol style="list-style-type: none">1) Крайняя восточная материковая точка находится на полуострове Камчатка.2) Территория омывается водами морей четырёх океанов.3) На северо-западе граничит с Финляндией.4) Крайняя южная точка находится на границе с Казахстаном <p>Ответ: 3</p>
10	<p>Какое утверждение о населении Бразилии является верным?</p> <ol style="list-style-type: none">1) Наибольшая часть населения размещена во внутренних районах страны.2) Испанский язык – государственный язык в стране.3) По числу жителей входит в «первую пятерку» стран мира.4) Большинство населения составляют сельские жители. <p>Ответ: 3</p>
11	<p>Какая буква обозначает государство, название которого в переводе на русский язык означает «красная роза»? (Это название дал первый президент страны Агостиньо Нето, который хотел подчеркнуть социалистическую её ориентацию).</p> <div data-bbox="427 1361 1348 1861" data-label="Image">A world map showing the continents and major lines of latitude and longitude. Four points are marked with letters in circles: A is in North America (USA), B is in South America (Brazil), C is in Africa (Algeria), and D is in Europe (Russia). The map is a Robinson projection.</div> <p>Ответ: C</p>

ВСЕРОССИЙСКАЯ ОЛИМПИАДА ШКОЛЬНИКОВ ПО ГЕОГРАФИИ
МУНИЦИПАЛЬНЫЙ ЭТАП

12	<p>Расположите страны мира в той последовательности, в которой их жители встречают Новый год.</p> <p>1) Индия 2) США 3) Великобритания</p> <p>Ответ: <table><tr><td>1</td><td>3</td><td>2</td></tr></table></p>	1	3	2	
1	3	2			
13	<p>Самый крупный район влажных экваториальных лесов занимает</p> <p>1) юго-восточную часть Евразии 2) бассейн реки Конго в Африке 3) северную часть Австралии 4) бассейн реки Амазонки в Южной Америке</p> <p>Ответ: <table><tr><td>4</td></tr></table></p>	4			
4					
14	<p>Сопоставьте цифры (от 1 до 6), которыми обозначены города на карте, с их характеристиками, данными ниже. Названия городов в описании обозначены латинскими буквами. Определите названия городов 1 и 2.</p> <div></div> <p>Город А находится южнее города D.</p> <p>Из города В можно добраться в город D, двигаясь по дороге с севера на юг.</p> <p>Города С и D расположены в местах слияния двух рек.</p> <p>Город Е связан дорогой с городом А.</p> <p>Город Е расположен южнее города F.</p> <p>Ответ: <table><tr><td>1</td><td>2</td></tr><tr><td>Е</td><td>А</td></tr></table></p>	1	2	Е	А
1	2				
Е	А				

ВСЕРОССИЙСКАЯ ОЛИМПИАДА ШКОЛЬНИКОВ ПО ГЕОГРАФИИ
МУНИЦИПАЛЬНЫЙ ЭТАП

15	<p>Выберите из списка страны, в которых могли бы происходить события, описанные в следующих книгах:</p> <p style="text-align: center;">А. В. Уикли «Среди бескрайних прерий»; Б. А. Мортимер «Рай для лемуров».</p> <p>1) Канада 2) США 3) Малагасийская республика 4) Зимбабве 5) Танзания</p> <p>Ответ:</p> <table><tr><td>А</td><td>Б</td></tr><tr><td>2</td><td>3</td></tr></table>	А	Б	2	3															
А	Б																			
2	3																			
16	<p>Рассчитайте сальдо миграций в России в 2008 году.</p> <div><table><thead><tr><th>Год</th><th>Иммиграция</th><th>Эмиграция</th></tr></thead><tbody><tr><td>2007</td><td>287</td><td>47</td></tr><tr><td>2008</td><td>283</td><td>40</td></tr><tr><td>2009</td><td>280</td><td>32</td></tr><tr><td>2010</td><td>192</td><td>34</td></tr><tr><td>2011</td><td>356</td><td>37</td></tr></tbody></table></div> <p>Ответ:</p> <table><tr><td>243</td></tr></table>	Год	Иммиграция	Эмиграция	2007	287	47	2008	283	40	2009	280	32	2010	192	34	2011	356	37	243
Год	Иммиграция	Эмиграция																		
2007	287	47																		
2008	283	40																		
2009	280	32																		
2010	192	34																		
2011	356	37																		
243																				
17	<p>Какое слово пропущено в тексте?</p> <p>Явление трансформации естественных природных ландшафтов в искусственные под влиянием застройки обозначают понятием «..... природы». тесно связана со многими политическими процессами в государстве (а часто и собственно с появлением этого института). Например, Р. Адамс считает наличие городов непрямым признаком государства. Гринин и Коротаев указывают на тесную взаимосвязь между и эволюцией государственности. Так, первая фаза наблюдались в IV — нач. III тыс. до н. э. и была связана со становлением ранних государств. Появление первого развитого государства (в середине II тыс. до н. э. в Египте) оказало заметное влияние на динамику: в XIII в. до н. э. численность городского населения мира впервые превысила 1 млн чел.</p> <p>Приток сельского населения в города опережает потребность в рабочей силе, что часто приводит к росту безработицы, обострению социально-экономических проблем.</p> <p>Ответ: урбанизация.</p>																			

ВСЕРОССИЙСКАЯ ОЛИМПИАДА ШКОЛЬНИКОВ ПО ГЕОГРАФИИ
МУНИЦИПАЛЬНЫЙ ЭТАП

18	<p>Какое слово пропущено в тексте?</p> <p>..... (из тур. или персидск. языка) — природная маслянистая горючая жидкость со специфическим запахом, состоящая в основном из сложной смеси углеводородов различной молекулярной массы и некоторых других химических соединений. Относится к каустобиолитам (ископаемое топливо). Подавляющая часть месторождений приурочена к осадочным породам. Цвет варьирует в буро-коричневых тонах (от грязно-жёлтого до тёмно-коричневого, почти чёрного), иногда она бывает чисто чёрного цвета, изредка встречается, окрашенная в светлый жёлто-зелёный цвет, и даже бесцветная, а также насыщенно-зелёная, имеет специфический запах, также варьирующий от легкого приятного до тяжелого и очень неприятного. Цвет и запах в значительной степени обусловлены присутствием азот-, серо- и кислородсодержащих компонентов, которые концентрируются в смазочном масле и нефтяном остатке. Большинство углеводородов в чистом виде лишено запаха и цвета.</p> <p>Ответ: нефть.</p>
19	<p>Узнайте страну по описанию.</p> <p>Одна из главных морских держав мира занимает западную и северную часть крупного полуострова. По форме правления — конституционная монархия. Немногочисленное, однородное по национальному составу население исповедует протестантство. Большую часть территории занимают горы, разрезанные узкими долинами; много озер. По таким показателям, как выработка электроэнергии на душу населения, добыча и экспорт нефти и газа, алюминия и ферросплавов, страна занимает одно из ведущих мест в мире.</p> <p>Ответ: Норвегия.</p>
20	<p>Какое слово пропущено в тексте?</p> <p>Природные — это естественные, необходимые для существования человеческого общества и используемые в хозяйстве. Одна из центральных проблем науки — обеспечение населения необходимыми сейчас и в будущем, анализ и оценку которых производят география и экономика. По видам хозяйственного использования различают энергетические (горючие полезные ископаемые, гидроэнергоресурсы, биотопливо, ядерное сырьё); неэнергетические (минеральные, водные, земельные, лесные, рыбные); сельскохозяйственного производства (агроклиматические, земельно-почвенные, растительные — кормовая база, воды орошения, водопоя и содержания).</p> <p>Ответ: ресурсы.</p>

Правильно выполнение задания – 1 балл.

Максимальное количество – 20 баллов.